


Bijlage VMBO-GL en TL  
**2024**

tijdvak 1

**economie CSE GL en TL**

**informatiebron 1** prijs van een Willy-boekenkast in:

Marokko



MAD 699,-

India



INR 4.990,-

Zuid-Korea



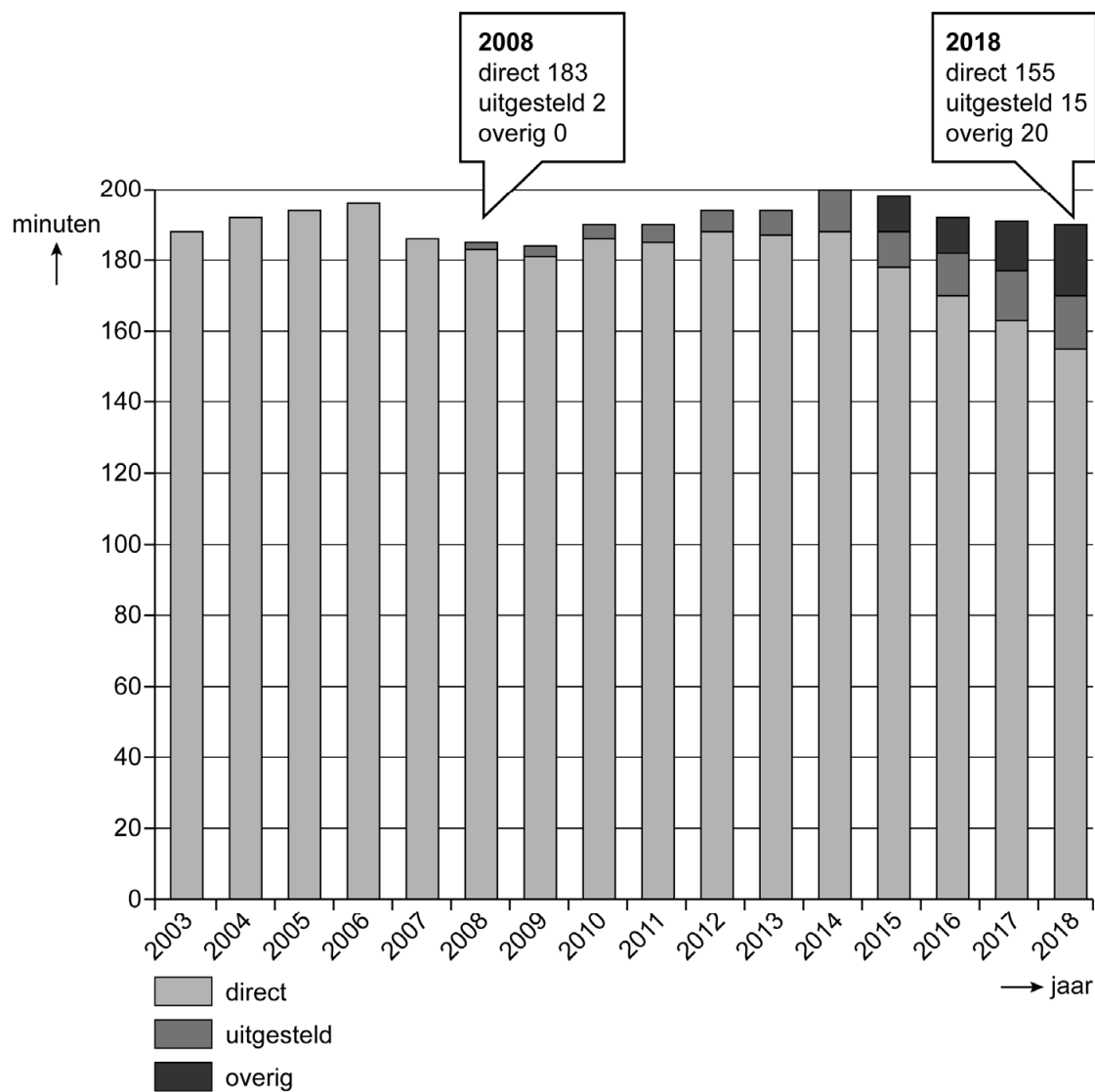
KRW 109.000,-

**informatiebron 2** koers van de Marokkaanse dirham (MAD), de Indiase roepie (INR) en de Zuid-Koreaanse won (KRW) ten opzichte van de euro (€)

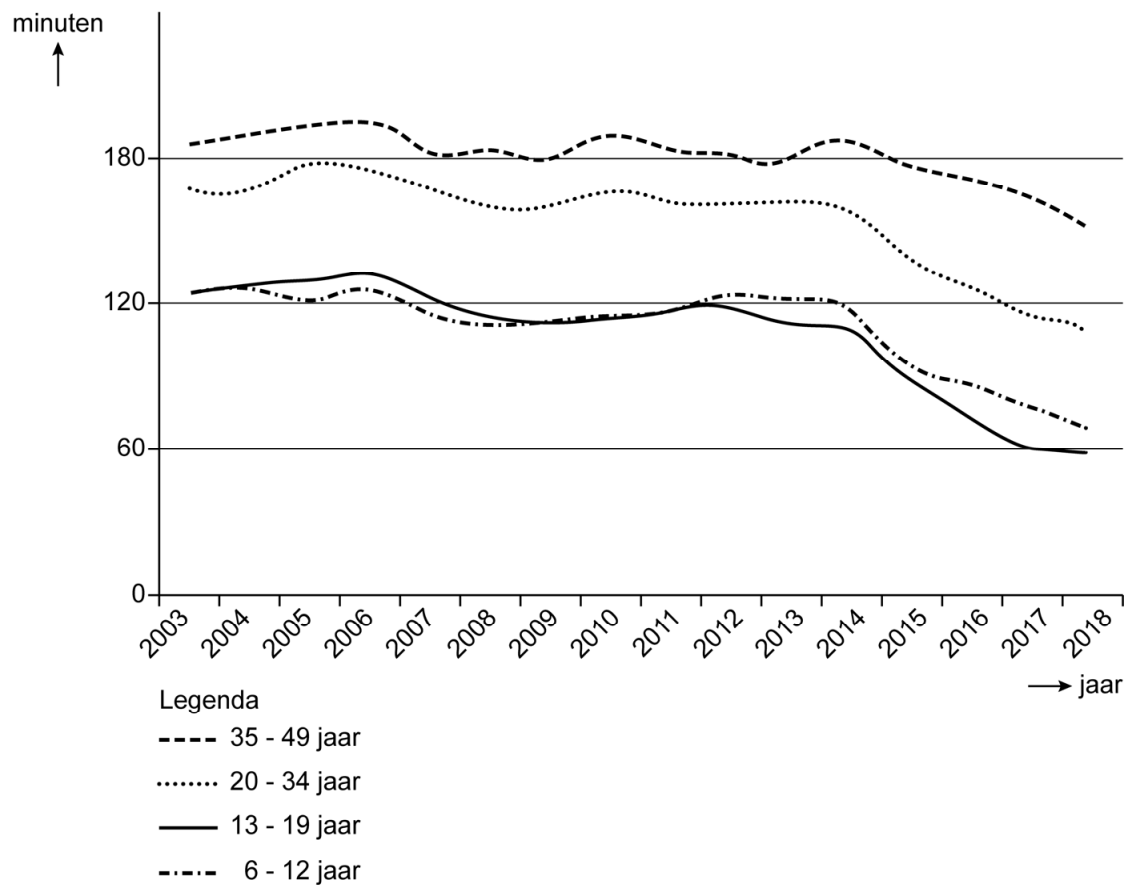
1 MAD	€ 0,092
1 INR	€ 0,012
1 KRW	€ 0,00075

# Tv-generatiekloof

**informatiebron 3 tv-kijken, gemiddeld aantal minuten direct, uitgesteld en 'overig' per dag**



#### informatiebron 4 tv-kijktijd in minuten per leeftijdsgroep, 2003-2018



# Helikoptergeld

## informatiebron 5 verdeling nationaal inkomen in vijf groepen

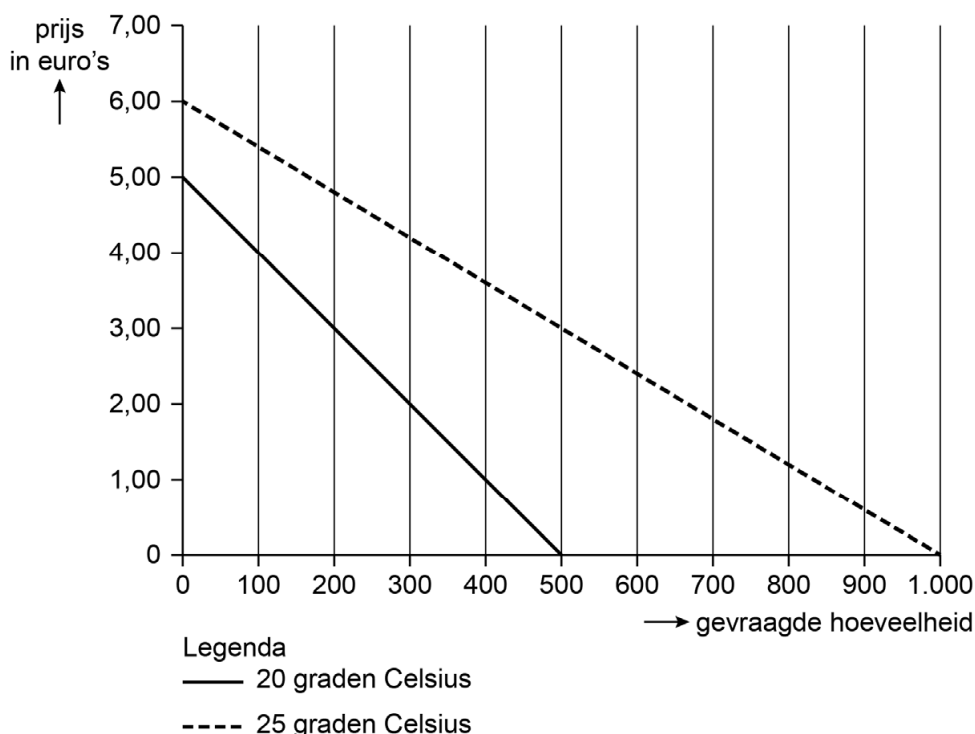
gemiddeld inkomen					
1 <sup>ste</sup> 20%-groep	2 <sup>de</sup> 20%-groep	3 <sup>de</sup> 20%-groep	4 <sup>de</sup> 20%-groep	5 <sup>de</sup> 20%-groep	totaal
€ 19.000	€ 25.000	€ 32.000	€ 39.000	€ 55.000	€ 170.000

## informatiebron 6 de econoom Milton Friedman

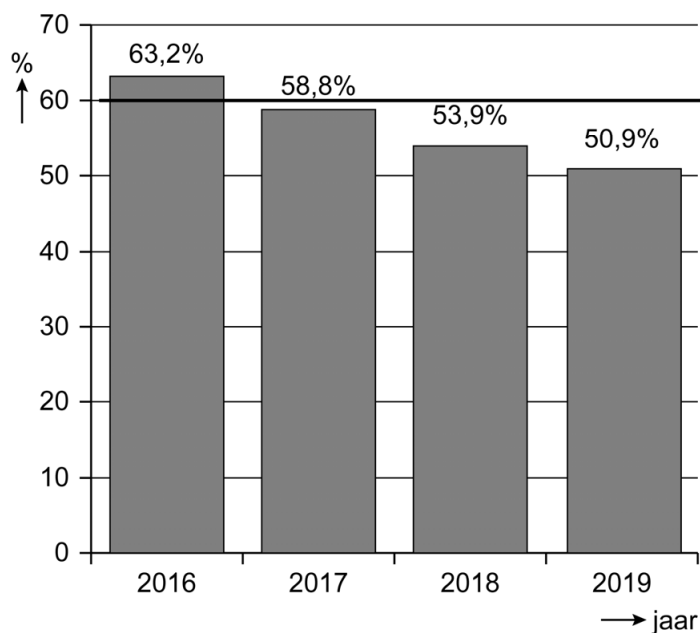
Friedman bedacht het idee van helikoptergeld: "Stel je voor dat op een dag een helikopter over het land zou vliegen en eenmalig bankbiljetten van € 1.000 naar beneden zou gooien. Welk effect heeft dat op de economie?"

# Waar zet ik mijn strandtent?

## informatiebron 7 totale dagelijkse vraag naar ijsjes bij 20 en 25 graden



### informatiebron 8 de staatsschuld in % van het nationaal inkomen



Toelichting:

De horizontale lijn van 60% is de EMU-norm.

## Italië failliet?

### informatiebron 9 totaal van leningen van rijkere EMU-landen aan armere EMU-landen


land	in miljarden euro's
Duitsland	841
Luxemburg	200
Nederland	124
overige rijkere EMU-landen	75
totaal	1.240

## 18 en op kamers

### informatiebron 10 overzicht persoonlijke inkomsten en uitgaven van Sasja en de gemiddelde uitgaven van uitwonende mbo-studenten

<b>inkomsten</b>	<b>Sasja</b> € per maand		<b>uitgaven</b>	<b>Sasja</b> € per maand	<b>gemiddeld</b> € per maand
basisbeurs	277		lesgeld	98	98
aanvullende beurs	0		studieboeken	57	127
studielening	124		zorgverzekering	106	100
bijbaan	374		huur	366	413
bijdrage ouders	150		dagelijkse huishoudelijke uitgaven	323	295
zorgtoeslag	99		vrijetijdsuitgaven	160	147
<b>totaal inkomsten</b>	<b>1.024</b>		<b>totaal uitgaven</b>	<b>1.110</b>	<b>1.180</b>

## informatiebron 11 een studieschuld en een hypotheek

		Een studieschuld, wat scheelt dat op je maximale hypotheek?
STUDIELENING	TOTALE STUDIELENING	MAXIMALE HYPOTHEEK
wat je per maand leent	wat je na vier jaar geleend hebt	bij een brutosalaris van € 2.800 per maand
€ 0	€ 0	€ 170.000
€ 100	€ 4.800	€ 164.500
€ 200	€ 9.600	€ 158.500
€ 300	€ 14.400	€ 152.500
€ 400	€ 19.200	€ 146.500
€ 500	€ 24.000	€ 140.500
<p><b>studieschuld hypotheek</b></p> <p>De hypotheekverstrekker gaat bij het berekenen van je maximale hypotheek altijd uit van je oorspronkelijke studieschuld. Alleen als je extra aflost, mag de geldverstrekker uitgaan van de oorspronkelijke studieschuld minus het extra afgeloste bedrag.</p>		

Toelichting:

Als je voor je studie niet geleend hebt, kun je een hypotheek krijgen van maximaal € 170.000.

## Maak 't in West-Brabant

### informatiebron 12 de hoogte van de transitievergoeding

bruto maandsalaris Bas	€ 2.500
aantal dienstjaren	20 jaar

hoofregel berekening transitievergoeding	
eerste 10 jaar	voor ieder gewerkt half jaar → 16% van het bruto maandsalaris
na 10 jaar	voor ieder gewerkt half jaar → 25% van het bruto maandsalaris